

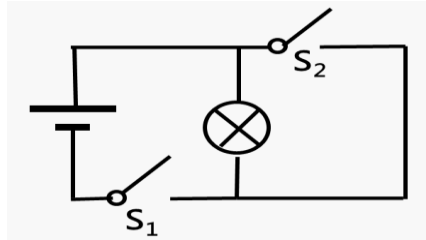
目录：初三物理 (全一册) > 第十五章 > 电流和电路

## 识别电路的 3 种状态 (讲义)

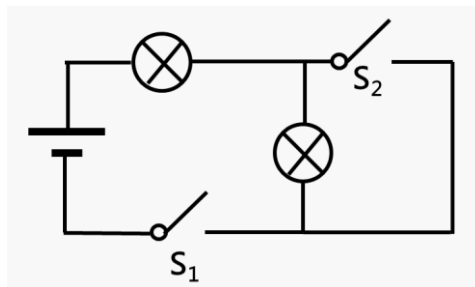
**例 1**、下图所示电路：(填通路、断路、短路)

(1) 当  $S_1$  断开、 $S_2$  闭合时，称为\_\_\_\_\_；

(2) 当  $S_1$  闭合、 $S_2$  断开时，称为\_\_\_\_\_。



**例 2**、下图所示电路：当  $S_1$ 、 $S_2$  都闭合时，称为\_\_\_\_\_；

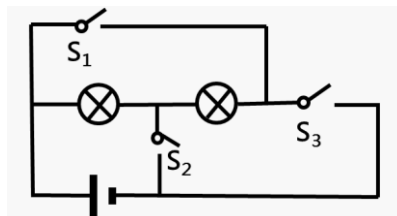


**例 3**、下图所示电路：(填通路、断路、短路)

当  $S_1$ 、 $S_2$  闭合时，称为\_\_\_\_\_；

当  $S_1$ 、 $S_3$  闭合时，称为\_\_\_\_\_；

当  $S_3$ 、 $S_2$  闭合时，称为\_\_\_\_\_；



用手机扫码 看完整视频解答

听课笔记