


目录：初一数学 (上册) > 第四章 > 展开图

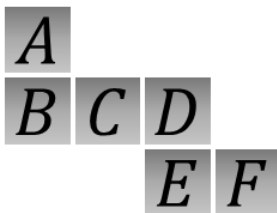
## 如何掌握正方体的展开图 (讲义)

例 1、想一想~下面的图形都是正方体的展开图吗?

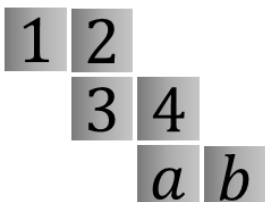


例 2、根据正方体展开图的相对面解决下列问题

(1) 下图, A 的相对面是\_\_\_\_\_.



(2) 下图, 相对面两数之和相等, 则  $a = \underline{\quad}$ ,  $b = \underline{\quad}$ .



用手机扫码 看完整视频解答

听课笔记

例 3、把右图中正方体的表面展开，得到的展开图是 ( )



- A. B. C. D.

听课笔记